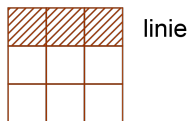


Problema 4. În careul 3×3 de mai jos, o parte dintre numere au fost șterse.

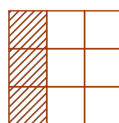
18	14	
	12	17

Găsiți numerele șterse, știind că adunând numerele scrise pe aceeași linie, aceeași coloană sau aceeași diagonală obținem același rezultat.

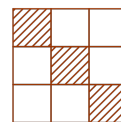
Indicație:



linie



coloană



diagonală

* * *